

Contrôle pédagogique de l’instruction à domicile CE2

Nom de l’élève : _____

Date de naissance : ____ / ____ / _____

Niveau de classe : ____

Date : ____ / ____ / _____

1. FRANÇAIS

1) Je dis mon prénom, mon nom de famille, mon âge, mon lieu de vie et je présente ma famille.

2) J'écris mon prénom et mon nom de famille



3) Je récite une poésie que je connais par coeur

4) Lis les mots suivants :

chouette

plantation

plongeon

coquillage

balançoire

récompense

aligné

désordre

mésaventure

insupportable

débrouillard

réapparaître

5) Lis le texte suivant à voix haute.

Monsieur Wonka [...] prit dans le fond du bateau une grande chope, la plongea dans la rivière pour la remplir de chocolat et la tendit à Charlie.

« Bois, dit-il. Ça te fera du bien ! Tu as l'air mort de faim ! »
Puis, Monsieur Wonka remplit une autre chope, pour grand-papa Joe. « Vous aussi, dit-il. Vous avez l'air d'un squelette ! Que se passe-t-il ? N'y avait-il donc rien à manger chez vous, ces derniers temps ?

- Pas grand-chose », dit grand-papa Joe.

Charlie porta la chope à ses lèvres. Le chocolat chaud, riche et onctueux, descendit dans son estomac vide, et il sentit dans tout son corps des picotements de plaisir. Une impression de bonheur intense l'envahit tout entier.

« C'est bon ? demanda Monsieur Wonka ?

- Oh ! C'est merveilleux ! dit Charlie.

- Je n'ai jamais bu de chocolat aussi délicieux, aussi onctueux ! dit grand-papa Joe en se léchant les lèvres.

- C'est qu'il a été fouetté par la cascade », dit Monsieur Wonka.

6) Je lis un texte et je réponds aux questions

Le hérisson



Sa nourriture

Le hérisson mange des insectes : c'est un insectivore. Il mange aussi d'autres choses (oisillons, vers, serpents). Il chasse surtout la nuit : c'est un animal nocturne.

Ses ennemis

Le renard, le chien et la chouette sont les ennemis du hérisson. Quand il a peur, le hérisson se met en boule. Il se ferme avec beaucoup de force et il est alors protégé.

La reproduction

Les hérissons sont des mammifères. Le mâle et la femelle se rencontrent en été. Les petits têtent la maman. Les petits commencent à manger tout seuls au bout d'un mois.

Le mode de vie

Le hérisson vit en liberté dans la nature (montagnes, forêts, champs). C'est un animal qui dort durant tout l'hiver : il hiberne. Il se cache dans un abri et se met en boule. Quand il se réveille au printemps, il est très maigre et il a faim. D'autres animaux hibernent comme le hérisson : l'ours, la marmotte, la tortue etc.

Lis le texte puis réponds aux questions.

1/ Quelle partie du corps du hérisson est recouverte de poils ?

.....
.....

2/ A quel moment le hérisson chasse-t-il ?

.....
.....

3/ A quelle saison les hérissons se reproduisent-ils ?

.....
.....

4/ Que fait le hérisson quand il a peur ?

.....
.....

5/ Quels sont les trois animaux qui hibernent comme le hérisson ?

.....
.....

7) Ecris les mots qui te sont dictés.

1	
2	
3	

4	
5	
6	

10) Complète le tableau de conjugaison au présent:

être	avoir	marcher	faire
Je _____	J' _____	Tu _____	Je _____
Elle _____	Tu _____	On _____	Vous _____
Vous _____	Nous _____	Vous _____	Nous _____
Ils _____	Elles _____	Ils _____	Elles _____

2. Mathématiques

Ecris les nombres dictés en chiffres.

A	B	C	D	E	F
<input type="text"/>	<input type="text"/>	<input type="text"/>	<input type="text"/>	<input type="text"/>	<input type="text"/>

Coche la case qui correspond au nombre souligné : **817**


- | | |
|---|---|
| <input type="checkbox"/> cent-quatre-vingt-dix-sept | <input type="checkbox"/> huit-cent-dix-sept |
| <input type="checkbox"/> sept-cent-dix-huit | <input type="checkbox"/> huit-cent-soixante-et-onze |

Range les nombres suivants de plus petit au plus grand :

314 – 134 – 34 – 431 – 413 – 43

<input type="text"/>	<input type="text"/>	<input type="text"/>	<input type="text"/>	<input type="text"/>	<input type="text"/>
----------------------	----------------------	----------------------	----------------------	----------------------	----------------------

Ecris le nombre qui correspond à chaque flèche :



Pose et effectue l'opération dans le cadre :

$$254 + 69$$



Pose et effectue l'opération dans le cadre :

$$812 - 86$$




Pose et effectue l'opération dans le cadre :

$$83 \times 4$$

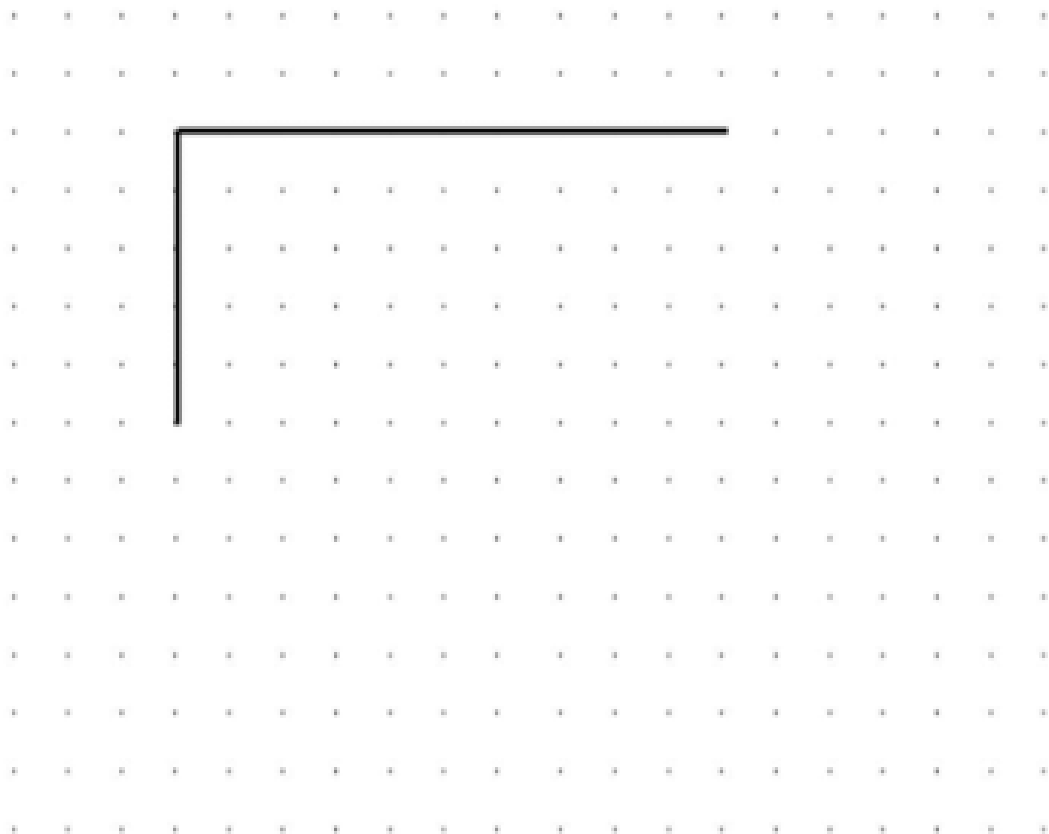


Trouve la réponse à ce problème. Ecris tes calculs et ta réponse dans le cadre :







Cinq enfants se partagent en parts égales 60 cartes.
Combien de cartes auront-ils chacun ?



A l'aide de la règle, poursuis le tracé commencé pour obtenir un carré :



Ecris le résultat des calculs dictés.

	<input data-bbox="242 324 502 504" type="text"/>		<input data-bbox="673 324 933 504" type="text"/>		<input data-bbox="1098 324 1358 504" type="text"/>
	<input data-bbox="242 537 502 716" type="text"/>		<input data-bbox="673 537 933 716" type="text"/>		<input data-bbox="1098 537 1358 716" type="text"/>

3. Histoire

1. Je cite les 5 grandes périodes de l'Histoire.
2. Je nomme quelques personnages importants de l'Histoire de France.

4. Géographie

1. Je cite 1 fleuve français.
2. Je nomme 2 massifs montagneux situés en France.
3. Je nomme ma ville, mon département, ma région, mon continent.
4. Je cite les 5 continents.

5. Sciences

1. J'explique ce qu'est un végétal.
2. J'explique ce qu'est un animal.
3. Je donne les 3 états de l'eau et leurs caractéristiques.


6. Langue Vivante

1. J'essaye de me présenter dans une langue étrangère et je dis les mots que je connais dans cette langue (nombres, couleurs, aliments, ...)



7. Arts Visuels

1. Je me dessine et je dessine mon lieu de vie puis je colorie ce dessin.



Appréciation générale :

Compétences à renforcer :
